

الورقة الامتحانية تحتوى على ٣٠ سؤال في المواد الدراسية الاساسية من نوعية اختيار من متعدد.

ضع خط تحت الاجابة الصحيحة من البدائل الموجودة في كل سؤال.

أولاً: اللغة العربية:

من قصة مغامرات في اعماق البحار :-

١. يلبس عامل اللحام قفازا في { يده - قدمه - رأسه - وسطه }

من موضوع حب الوطن

"يهوى أمير مادة الدراسات الاجتماعية ،حيث يتعرف تاريخ بلاده ويستخلص العبر من سير العظماء ويتعلم الوفاء والعطاء والتضحية والتعاون مع الاخرين ."

٢. - معنى " يستخلص "
٣. كلمة (مادة)
٤. مفرد (العبر)
٥. إعراب كلمة (أمير) ...
٦. تاريخ عظيم
من نص (مصر أنشودة الدنيا)
- { يستفتح - يستكبر - يستنتج - يرتقي }
{ اسم - فعل - حرف - ظرف }
{ العبرة - العبارة - العبور - العابر }
{ فاعل - مفعول به - خبر - مضاف إليه }
{ هذا - هاذان - هؤلاء - هذه }

شدي الضياء من الظلام ونوري كل الدروب

٧. مفرد (الدروب)
٨. مضاد (الضياء)
٩. يدعو الشاعر مصر في البيت السابق إلى... { المعرفة - الجهل - الإهمال - التخلف }
١٠. (شدي) فعل
{ الدار - الدرة - الدير - الدرب }
{ الظلام - الضلال - الضياع - الونام }
{ أمر - مضارع - ماضى - اسم }

ثانياً: اللغة الانجليزية

1 - What did you

- a) bought b) buying c) buys d) buy

2 - She cleans the

- a) tent b) story c) jokes d) cards

3 - I'm to ride the bus.

- a) go b) going c) goes d) went

4 - That's okay It's my

- a) great b) treat c) threat d) tree

5- It's timebreakfast.

- a) in b) to c) for d) on

ثالثا: الدراسات الاجتماعية

- ١- يعد من ارض وسائل النقل لكنه بطيء [النقل المائي - النقل الجوي - مترو الانفاق - النقل البري]
- ٢- عرف عصره بعصر الاضطهاد الاكبر او عصر الشهداء
- ٣- تعتمد الزراعة في الواحات بمصر علي [الامطار - المياه الجوفية - نهر النيل - البحيرات]
- ٤- أحد مشروعات التنمية الزراعية في مصر والتي تستمد مياهها من فرع دمياط
- [توشكي - ترعة السلام - شرق العوينات - الفرافرة]

رابعا: الرياضيات

- (١) $50 \div 0,5 = \dots\dots\dots$
- (ب) ٥ (ج) ٠,٥ (د) ٠,٠٥
- (٢) $\frac{1}{4} < \dots\dots\dots$
- (أ) $\frac{1}{4}$ (ب) $\frac{1}{6}$ (ج) $\frac{1}{3}$ (د) ١
- (٣) إذا كان $\{2, 3, 4, 5\}$ فإن س =
- (أ) ٢ (ب) ٣ (ج) ٤ (د) ٥
- (٤) الوتر الذي يمر بمركز الدائرة يسمى
- (أ) ارتفاع (ب) قطر (ج) نصف قطر (د) ضلع
- (٥) عدد ارتفاعات المثلث المنفرج الزاوية =
- (أ) ١ (ب) ٢ (ج) ٣ (د) صفر
- (٦) س ص - س ص =
- (أ) صفر (ب) ش (ج) س ص (د) ص
- (٧) صندوق به ٢٠ كرة ، منها ٥ كرات زرقاء ، و الباقي أحمر فإذا سحبت كرة عشوائيا ، فإن احتمال أن يكون لونها احمر =
- (أ) ٠,٢٥ (ب) ٠,٧٥ (ج) ٠,٥ (د) ٠,٤

خامسا: العلوم

- ١- يتكون الملف في المغناطيس الكهربى من سلك معزول مصنوع من
- أ- النحاس ب- الحديد ج- الألومنيوم د- الكربون
- ٢- يعمل المنشور الثلاثى على تحليل ضوء الشمس إلى ألوان .
- أ- ٤ ب- ٥ ج- ٦ د- ٧
- ٣- يمكن فصل البن المطحون عن الماء ب-
- أ- التبخير ب- الترشيح ج- الجذب د- قمع الفصل
- ٤- من أمثلة الكائنات المحللة
- أ- الفطريات ب- الأرنب ج- النبات د- الأسد

الدرجة الكلية

ثالثا: الدراسات الاجتماعية

- ١- أقامه الرومان للاحتفال بالاعياد الدينية واعياد الامبراطور
[عمود السواري - حصن بابلينون - رأس السودان - المسرح الروماني]
٢- لا يتوافر في مصر غابات طبيعية بسبب ندرة [الانهار- الامطار - المياه الجوفية -- البحيرات]
٣- من اهم مراكز صناعة الغزل والنسيج بمصر [اسيوط - مطروح - المحلة الكبرى - المنيا]
٤- من مصادر الطاقة المتجددة [الرياح- الفحم - البترول - الغاز الطبيعي]

رابعا: الرياضيات

- (١) إذا كان $\{س، ٥\} = \{٥، ٦\}$ فإن $س =$
٥ (ا) ٦ (ب) ٧ (ج) ٨ (د)
(٢) $٦٧٨ \div ١٠٠ = ٦٧,٨ \div$
١٠ (ا) ١٠٠ (ب) ١٠٠٠ (ج) ١٠٠٠٠ (د)
(٣) $٥٦,٦٣ \approx$ لأقرب جزء من عشره
٥٦,٦ (ا) ٥٦,٧ (ب) ٥٦,٤ (ج) ٥٦,٣ (د)
(٤) $٤٥٦٧ \times$ = ٤٥٦,٧
١ (ا) ١٠ (ب) ١٠٠ (ج) ١٠٠٠ (د)
(٥) $\{٦,٨\} \cup \{١,٦\} =$
{٦,٨} (ا) {١,٦,٨} (ب) {١,٨} (ج) {٦} (د)
(٦) احتمال الحدث المستحيل =
١ (ا) ١/٣ (ب) ١/٢ (ج) صفر (د) ١
(٧) وتر الدائرة المار بمركز الدائرة يسمى في الدائرة
قطر (ا) نصف قطر (ب) يوازي (ج) عمود (د)

خامسا: العلوم

- ١- عند خلط الضوء الأحمر مع الضوء الأزرق فإنه يعطي ضوء
أ- أصفر ب- قرمزي ج- أزرق فاتح د- أخضر
٢- تحتوي البوصلة على مغناطيس حر الحركة.
أ- كبير وثقيل ب- صغير وخفيف ج- متوسط وثقيل د- كبير وخفيف
٣- المذيب في مخلوط الشيكولاتة واللبن هو
أ- الشيكولاتة ب- اللبن ج- الماء د- السكر
٤- من الكائنات المنقرضة بسبب تغير الظروف الطبيعية بالبيئة
أ- الأسود ب- الحشرات ج- الفئران د- الديناصورات

الدرجة الكلية

لغة عربية

القرأة :- من موضوع حب الوطن إقرأ ثم أجب :-

"يهوى أمير مادة الدراسات الاجتماعية، حيث يتعرف تاريخ بلاده ويستخلص العبر من سير العظماء".
أكمل ما يأتي :-

١. مرادف (يهوى)
 ٢. مفرد (العبر)
 ٣. كلمة (بلاد) نوع الجمع
 ٤. كلمة أمير تعرب
- من نص (مصر أنشود الدنيا)

١. يحب - يكره - يسعد - ليس مما سبق ()
٢. العبرة - البعير - العابر - المعبر ()
٣. تكسير - مذكر سالم - مؤنث سالم - ليس مما سبق ()
٤. فاعل - مفعول به - مضاف إليه - مبتدأ ()

يامصر ياأنشودة الدنيا وأغنية الشعوب

ياكعبة الأحرار رن هتاف نصرك في القلوب

- ٥- معنى (هتاف) صوت { منخفض - عال - منقطع - نحيف }
- ٦- مفرد (الأحرار) { الحارة - الحرير - الحر - المحار }
- ٧- ياأنشودة الدنيا أسلوب { استفهام - نداء - نهى - تعجب }
- ٨- إعراب كلمة هتاف { فاعل - مفعول به - خبر - مبتدأ }
- ٩- كلمة القلوب { اسم - فعل - حرف - ظرف }
- ١٠- يتحدث الشاعر في الأبيات عن { الجنة - مصر - الأغنية - ليس مما سبق }

ثانيا: اللغة الانجليزية

1- We're having beans eggs .
a) and b)to c)from d)of

2 – We watch the sunrise in the

- a) morning b) evening c) afternoon d)sunset

3- She helps her mother do the


- a) bed b)table c)laundry d)pets

4- What are you

- a) ate b)eating c)eat d) is eating

5- They're going toa film.

- a) ride b)visit c)see d) help




ثالثا: دراسات اجتماعية

اختر الاجابة الصحيحة من بين الأقواس :-

- ١- أهم مناطق انتاج الغاز الطبيعي في مصر
(جبل المغارة - الواحات البحرية - جبل علبة - أبو ماضي)
- ٢- يعد أكثر الموانئ المصرية أهمية علي البحر المتوسط
(سفاجا - الغردقة - السويس - الاسكندرية)
- ٣- أول من أنشأ مناجل لتصدير العسل للصين الملك
(أكتافيوس - بطلميوس الأول - بطلميوس الثالث - أنطونيوس)
- ٤- أول من بشر بالمسيحية في مصر القديس
(باخوم - أنطونيوس - بشوي - مرقس)

رابعا: الرياضيات


(١) {٠} ∅



(١) ∃ (ب) ∄ (ج) ⊃ (د) ∅

- (٢) $123,45 \div 1000 = \dots\dots\dots$
(١) ١٢٤,٤٥ (ب) ١,٢٣٤٥ (ج) ٠,١٢٣٤٥ (د) ١٢٣,٤٥
- (٣) $1,23 \times 45 = \dots\dots\dots \times 4,5$
(١) ١٢,٣ (ب) ١,٢٣ (ج) ١٢٣ (د) ٠,١٢٣

(٤) الجزء المظلل في الشكل المقابل يمثل



(١) ص - س (ب) س ∩ ص (ج) س - ص (د) س ∩ ص

(٥) احتمال الحدث المؤكد =
(١) $\frac{1}{3}$ (ب) $\frac{1}{2}$ (ج) صفر (د) ١

(٦) القطعة المستقيمة التي تصل بين مركز الدائرة وأي نقطة على الدائرة تسمى
(١) قطر (ب) نصف قطر (ج) عمود (د) وتر

(٧) عدد ارتفاعات المثلث القائم الزاوية =
(١) ١ (ب) ٢ (ج) ٣ (د) صفر

خامسا: العلوم

- ١- من المواد غير المغناطيسية.....
أ- النحاس ب- الحديد ج- الكوبالت د- النيكل
- ٢- يعمل المنشور الثلاثي على تحليل ضوء الشمس إلى ألوان .
أ- ٤ ب- ٥ ج- ٦ د- ٧
- ٣- يمكن فصل البن المطحون عن الماء ب.....
أ- التبخير ب- الترشيح ج- الجذب د- قمع الفصل
- ٤- من أمثلة الكائنات المحللة.....
أ- الفطريات ب- الأرنب ج- النبات د- الأسد



الدرجة الكلية