



لغة عربية

لقد وعى سلفنا الصالح خطورة التفريط في المال العام فهذا أمير المؤمنين عمر بن عبدالعزيز إذا انشغل في ليله بأمر للمسلمين أضاء شمعة من بيت مال المسلمين فإذا انصرف إلى شغونه أطفأها.

1- مضاد انشغل (اهتم- عرف- غادر- علم)

2- جمع أمر (أمراء- أمور- إمارات- إمارات)

3- موقف عمر بن عبدالعزيز في الفقرة يدل على (سماحته، أمانيته، عدله، قوته)

4- كلمة (وعى) تعرب (فعل ماض، فعل أمر، فعل مضارع، مبتدأ)

5- شارك عقبة بن نافع في فتح (بلاد فارس، العراق، مصر، الأندلس)

من نص فضل العلم والعمل

إن المعارف للمعالي سلم وأولو المعارف يجهدون لينعموا

والعلم زينة أهله بين الورى سيان فيه أخو الغنى والمعدم

تخير الصواب مما بين القوسين

- مرادف المعدم (الفقير - الثري - عابر السبيل، المسافر)
- مفرد المعارف (المعروف - المعرفة - العارف، أعراف)
- المعارف للمعالي سلم (تصوير جميل - تضاد - أمر - نهي)
- كلمة المعارف تعرب (مفعول به - إسم إن - خبر - حال)
- كلمة زينة تعرب (فعل ماض - خبر - حال - صفة)

دراسات اجتماعية

اختر الإجابة الصحيحة مما بين الأقواس :

- 1- تعرف مجموعة الاجسام الهائلة من الغازات التي تظهر في السماء واصلها نتيجة انفجار النجوم باسم
(النيازك - المجرات - السدم - الاقمار)
- 2- الكوكب الذي له غلاف جوي متماسك ويصعب تحديد مدة دورانه حول نفسه هو
(عطارد - الزهرة - الارض - المريخ)
- 3- سكن المصري القديم الكهوف في العصر
(الحجري الحديث - النحاسي - الحجري القديم - ما قبل الأسرات)
- 4- شعر الإنسان المصري القديم بحاجة الى نظام يحفظ له حقوقه عندما
(نشأت القرى - ظهرت المدن - نشأت الأقاليم المستقلة - تحققت الوحدة الأولى)
- 5- أول ظهور للأهرامات كان في زمن الأسرة
(الثالثة - الرابعة - الخامسة - السادسة)

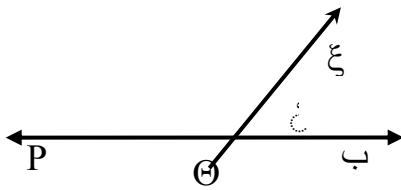
علوم

اختر الإجابة الصحيحة:-

- 1- العنصر السائل الذي يتركب جزيئه من ذرة واحدة هو
- أ- النيون ب- الزئبق ج- البروم د- الأكسجين
- 2- مستوى الطاقة الثالث M يتشبع بعددالكترونات .
- أ- 6ب- 8 ج- 18د- 32
- 3- أصغر جزء من المادة يمكن أن يوجد على حالة انفراد
- أ- الذرة ب- المركب ج- العنصر د- الجزيء
- 4- الشغل المبذول في أثناء حركة جسم هو طاقة
- أ- الحركة ب- الوضع ج- ميكانيكية د- كهربية
- 5- انتقال الحرارة بالإشعاع يتم خلال
- أ- السوائل فقط ب- الغازات فقط ج- الأوساط المادية وغير المادية د- المعادن فقط
- 6- عدد الأصابع الأمامية في الصقر
- أ- 1 ب- 2 ج- 3 د- 4

رياضيات اختر الإجابة الصحيحة من بين الإجابات المعطاة :

- (1) مجموع قياسات الزوايا المتجمعة حول نقطة يساوي
- أ- 180 ب- $270 >$ 360 ج- 540
- (2) إذا كان θ ب 8λ س ص ع ، $\theta = 40^\circ$ ، $\theta = 80^\circ$ فإن $\theta = (\% ع) = \dots\dots^\circ$
- أ- 40 ب- $60 >$ 120 د- 140
- (3) إذا كان الشكل θ ب P8 الشكل س ص ع ل فإن $\theta = \dots\dots\dots$
- أ- س ص ب- س ع > ص ل ج- د- سل
- (4) في الشكل المقابل :
- $\theta = \dots\dots\dots = (\% \theta) = 40^\circ$ فإن $\theta = (\% \theta) = \dots\dots\dots$
- أ- 50 ب- 140
- ج- $130 >$ 120
- (5) إذا كان $\frac{2}{-} = 0$ فإن: س 7
- أ- س ب- $5 + 2 >$ 2 ج- د- 5
- (6) الحد الجبري $ص^2$ من الدرجة
- أ- الثانية ب- الثالثة > الخامسة ج- السادسة
- (7) باقي طرح 15 س من 20 س هو
- أ- 2 س ب- 5 س > 5 د- 5-
- (8) المنوال لمجموعة القيم 4 ، 4 ، 3 ، 2 ، 7 هو
- أ- 3 ب- $4 >$ 5 ج- د- 20



Choose the correct answer from a , b , c or d

1-Salah is very good at ----- goals.

- a)kicking b) scoring c) hitting d) diving

2-English and science are school -----

- a) subjects b) objects c) teams d. groups

3- She likes playing the drums in a

- a) sand b) bank c) band d) hand

4- They go to school on Friday.

- a) don't b) isn't c) hasn't d) doesn't

5- He loves.....art at school.

- a) doing b) do c) did d) done

6- He has short hair.

- a) get b) got c) gets d) getting



لغة عربية

ثانياً: القراءة أ – القراءة من موضوع صيانة المال العام

إن صيانة المواطن للمال العام واجب تمليه عليه عقيدته ، لذا فهو يحرص عليه

*تخير الإجابة الصحيحة

- *مرادف تمليه (تعرضت - تبعده - تفرضه)
- جمع عقيدة (عقودة - عقائد - عقدة)
- مرادف صيانة (حماية - جباية - فهامة)
- كامة للمال تعرب (جار ومجرور - فاعل - خبر)
- الفتاح العربي لمصر هو (عقبة بن نافع - عمرو بن العاص - خالد بن الوليد)

ثانياً المحفوظات من نص عشقناك يا مصر

سيتقى عبيرك بيت الغريب
وسيف الضعيف وحلم الحزين

سيتقى شبابك رغم الليالي
ضياء يشع على العالمين

تخير الصواب مما بين القوسين

- المراد بـ تحلمين (تتمنين - تنامين تسهرين)
- مفرد الهموم (الهممة - الهم - الوهم)
- مضاد ضياء (ظلام - نور - ضوء)
- كلمة الغريب تعرب (مضاف إليه - مفعول به - فاعل)
- كلمة العالمين تعرب (جار ومجرور - نعت - مضاف إليه)

دراسات إجتماعية

اختر الإجابة الصحيحة مما بين الأقواس :

- 1- أدى الشكل الكروي للأرض إلى
(عدم تنوع النبات - عدم تنوع البيئات - تنوع المسطحات المائية - تنوع اشكال النبات)
- 2- تدور الارض حول نفسها من
(الشمال الى الجنوب - الغرب الى الشرق - الجنوب الى الشرق - الشرق الى الغرب)
- 3- الكوكب الذي له غلاف جوي متماسك ويصعب تحديد مدة دورانه حول نفسه هو
(عطارد - الزهرة - الارض - المريخ)
- 4- قام الملك سنوسرت الثالث بعدة اعمال مثل انشاءه
(هرم زوسر - قلعة قمنه - معبد اللايرنت - مدينة أثيت تاوى)
- 5- من اشهر النساء التي تولت الحكم في مصر وكانت محبة للسلام الملكة
(اياح حتب - نفر تيتي - حتشبسوت - كليوباتره)

علوم

اختر الإجابة الصحيحة:-

- 1- عدد الذرات في مركب كلوريد الهيدروجين
أ- 1 ب- 2 ج- 3 د- 4
- 2- ذرة الصوديوم Na_{11} يكون التوزيع الالكتروني للالكترونات في
أ- مستوى واحد ب- مستويين ج- 3 مستويات د- 4 مستويات
- 3- ناتج اتحاد ذرتين أو أكثر لعناصر مختلفة بنسب وزنية ثابتة
أ- الذرة ب- المركب ج- العنصر د- الجزيء
- 4- الطاقة المخزنة بالجسم نتيجة شغل مبذول عليه تسمى طاقة
أ- الحركة ب- الوضع ج- ميكانيكية د- كهربية
- 5- في السخانات الشمسية تتحول الطاقة الشمسية إلى طاقة
أ- ضوئية ب- كهربية ج- حرارية د- حركية
- 6- من القوارض التي تدخل في خمول صيفي
أ- الفأر ب- السنجاب ج- اليربوع د- القوقع الصحراوي

رياضيات

اختر الاجابة الصحيحة من بين الاجابات المعطاة :

(1) الزاوية التي قياسها 70° تتم الزاوية التي قياسها°

ا- 20° ب- 110° ج- 70° د- 140°

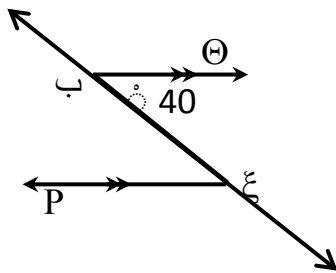
(2) إذا كان $\lambda \Theta$ ب $\lambda 8$ ع س ص ع ، $\lambda (\Theta\%) + \lambda (\text{ص}\%) = 100^\circ$ فإن $\lambda (\text{ع}\%) = \dots\dots\dots^\circ$

ا- 80° ب- 100° ج- 40° د- 10°

(3) إذا كانت $\lambda (\text{ب}\%) = 8 (\text{ع}\%)$ ، حيث $\lambda (\text{ب}\%)$ ، $\lambda (\text{ع}\%)$ متكاملتان فإن $\lambda (\text{ب}\%) = \dots\dots\dots^\circ$

ا- 180° ب- 90° ج- 45° د- 30°

(4) في الشكل المقابل :



$\overline{ب\Theta} \parallel \overline{پع}$ ، $\lambda (\Theta\%) = 40^\circ$ فإن $\lambda (\text{ب}\%) = \dots\dots\dots^\circ$

ا- 40° ب- 80°

ج- 50° د- 25°

(5) المعكوس الضربي للعدد 1 =

ا- 1° ب- 1- ج- 1 د- 2

(6) أبسط صورة للمقدار $(س - 2) (س + 2) + 4$ هي

ا- $س^2 + 4$ ب- $س^2 - 4$ ج- $س^2 - 4$ د- 4

(7) $25 (س^5 ص^2) \div 5 (س^2 ص^2) = \dots\dots\dots$

ا- $5 (س^7 ص^4)$ ب- $5 (س^3 ص^3)$ ج- $5 (س^3 ص^3)$ د- $5 (س^7 ص^4)$

(8) الوسط الحسابي لمجموعة القيم : 1 ، 2 ، 3 ، 4 ، 10 هو =

ا- 3° ب- 4° ج- 5° د- 20°

Choose the correct answer from a , b , c or d:

1-Salah is very good at ----- goals.

- a)kicking b) scoring c) hitting d) diving

2-English and science are school -----

- a) subjects b) objects c) teams d. groups

3- She likes playing the drums in a

- a) sand b) bank c) band d) hand

4- They go to school on Friday.

- a) don't b) isn't c) hasn't d) doesn't

6- He loves.....art at school.

- a) doing b) do c) did d) done

6- He has short hair.

- a) get b) got c) gets d) getting



لغة عربية

أولا القراءة من موضوع صيانة المال العام .

(لقد وعى سلفنا الصالح خطورة التهرب في المال العام

- 1- مرادف التهرب (الاهتمام - الاهمال - الحرص)
- 2- جمع أمر (أمور - أوامر - أمر)
- 3- مضاد أطفأها (أشعلها - أخمدها - تركها)
- 4- كلمة سلفنا تعرب (فاعل - مضاف إليه - خبر)
- 5- كلمة خطورة تعرب (مفعول به - مضاف إليه - خبر)

ثانيا : المحفوظات من نص فضل العلم

وأولو المعارف يجهدون لينعموا

إن المعارف للمعالي سلم

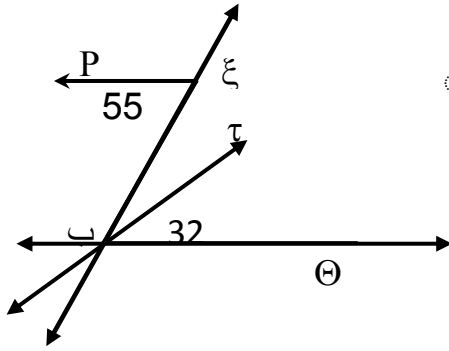
تخير الصواب مما بين القوسين

- مرادف المعدم (الفقير - الثري - عابر السبيل)
- مفرد المعارف (المعروف - المعرفة - العارف)
- مضاد الغنى (الفقير - صاحب مال - السعيد)
- كلمة المعارف تعرب (مفعول به - إسم إن - خبر)
- شارك عقبه في فتحين كبيرين هما فتح (مصر - الشام - هما معا)

دراسات اجتماعية

اختر الإجابة الصحيحة مما بين الأقواس :

- 1- اكبر القارات مساحة هي
- (اسيا - افريقيا - امريكا الشمالية - امريكا الجنوبية)
- 2- تعرف الاراضي المستوية أو شبه مستوية و ارتفاعها اقل من 500 متر وجوانبها شديدة الانحدار باسم
- (السهول - الاودية - التلال - الهضاب)
- 3- من الإدارات العامة في مصر واختصت بالحفاظ على الموارد المالية للدولة إدارة
- (الخزانة - القضاء - الوثائق الملكية - النسخ والمحفوظات)
- 4- لجأ المصريون القدماء الى تحنيط جثث موتاهم متأثرين بعقيدة
- (تعدد الالهة - الثواب والعقاب - البعث والخلود - وحدانية العبادة)
- 5- من الصناعات التي سبق فيها المصريين غيرهم اعتماداً على رمال الصحاري الصناعات
- (الزجاجية - الخشبية - الفخارية - النسيجية)



(8) في الشكل المقابل :

$$\overset{\circ}{\tau} 32 = (\ominus \text{ ب } \% \tau) \mid , \overset{\circ}{\xi} 55 = (\text{ ب } \% P \xi) \mid , \ominus \text{ ب } // P \xi$$

فإن = (ξ ب \% τ)

$$24 \sim 13 \sim > 23 \sim 32 \sim$$

لغة انجليزية

Choose the correct answers from a ,b ,c, or d.

1- This isbag . It's hers.

- a) her b) my c)his d)their

2- Our school has a big

- a) hat b)hall c)bill d) tail

3- Ola enjoys.....to music.

- a)listens b) listen c) to listening d)listening

4-You should keep your password

- a)scared b)scary c)secret d)score

5- Yesterday, I a nice cake.

- a) buy b) buys c) buying d) bought

6-..... drinks are bad for our teeth.

- a)Fizzy b) Lazy c) Easy d) Busy